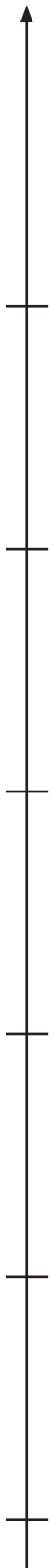


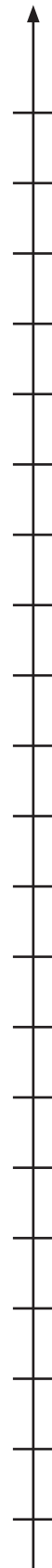


1. Írd a számokat a beosztások alá!

			
..... 50 40 50 70 50 55 70 62 63 64

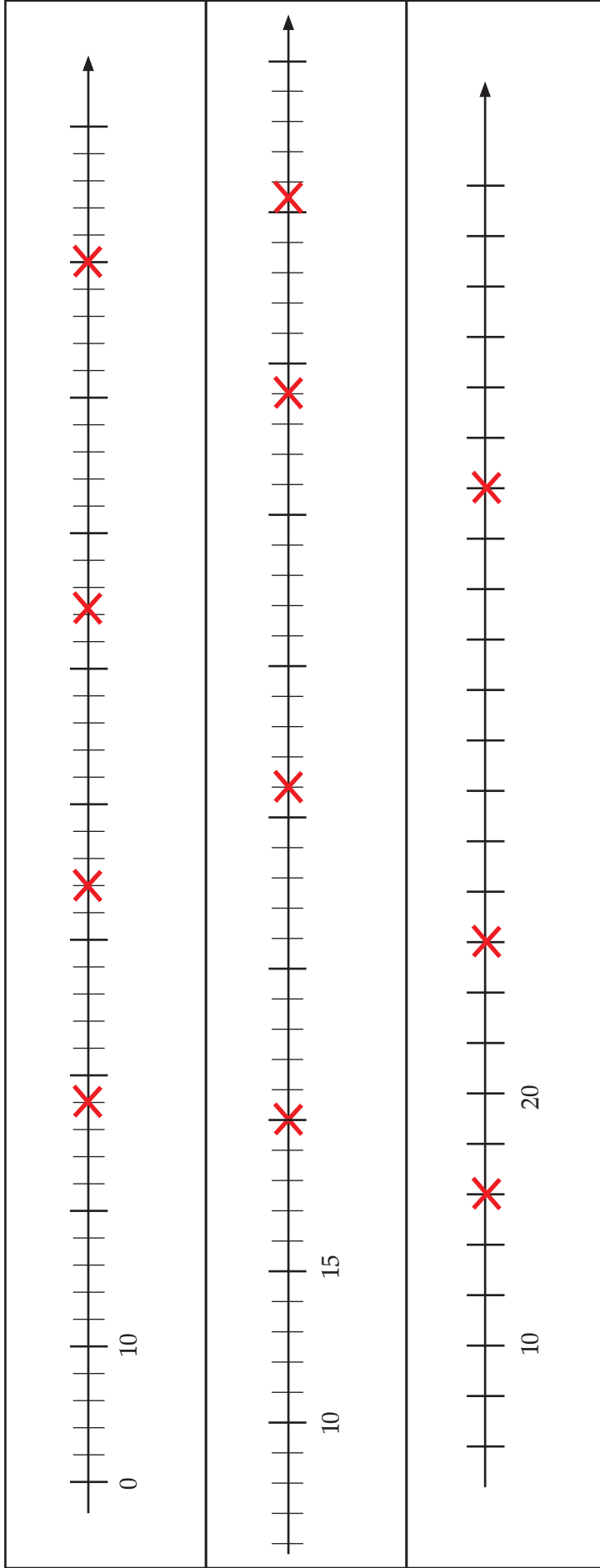
1. a) Írd a megjelölt pontok alá, mely számok helyét jelölik!

b) Jelöld a számok helyét a számegyeneseken!

– Pirossal jelöld: tizennyolc, harmincyolc, ötven.

– Kékkel jelöld: a 18 másodszozsédait; a 38 másodszozsédait; az 50 másodszozsédait.

– Zölddel jelöld: a 18-nál 10-zel nagyobb számot; a 38-nál 10-zel kisebb számot; az 50-nél 10-zel nagyobb számot.



2. Jelöld meg a számegyenesen a megadott számok helyét! A jelöléshez használj a beosztásnak megfelelő fóliadarábot!

– Jelöld sárgával: 8, 18, 28, 38, 48, 58, 68, 78, 88, 98!

– Kékkel jelöld: 5, 15, 25, 35, 45, 55, 65, 75, 85, 95!

– Zölddel jelöld: 3, 13, 23, 33, 43, 53, 63, 73, 83, 93!



