


**Mit mond a kép?**

Írj róla minél több számfeladatot a füzetedbe!

34



**Mit mond a kép?**

Írj róla minél több számfeladatot a füzetedbe!


35



**Mit mond a kép?**

Írj róla minél több számfeladatot a füzetedbe!

36



**Mit mond a kép?**

Írj róla minél több számfeladatot a füzetedbe!


37



**Mit mond a kép?**

Írj róla minél több számfeladatot a füzetedbe!


38



**Mit mond a kép?**

Írj róla minél több számfeladatot a füzetedbe!

39



$$6 + 6$$

$$5 + 6$$

$$7 + 8$$

$$14$$

$$16$$

$$9 + 8$$

$$9 + 9$$

$$19$$

$$4 + 5$$

$$5 + 5$$

$$4 + 4$$

$$3 + 4$$

$$9$$

$$6 + 7$$

$$6 + 8$$

$$10 + 10$$

$$10 + 9$$

$$2 + 4$$

$$0 + 1$$

$$0 + 0$$

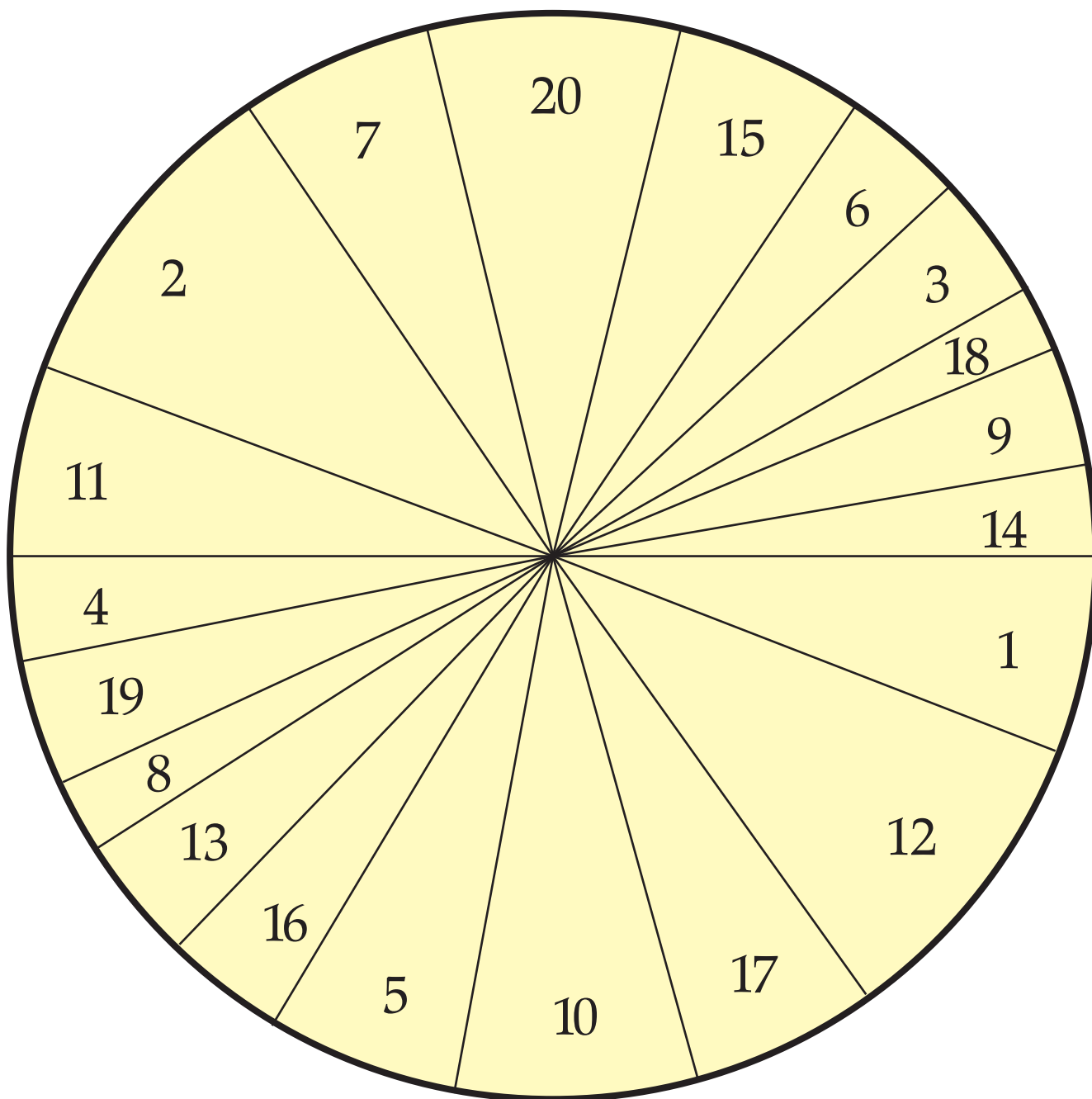
$$2 + 2$$

$$3 + 2$$

$$1 + 2$$

$$10 + 11$$

**7****1 + 1****9 + 11****22**





**17 Ft**

**16 Ft**

**12 Ft**

**15 Ft**

**19 Ft**

**18 Ft**